

منهمج

7

مهارات التفكير



د. صالح بن يحيى الزهراني

دلال محمد حسين

ثائر غازي حسين



منتدى سور الأزبكية

WWW.BOOKS4ALL.NET

<https://www.facebook.com/books4all.net>

منهج مهارات التفكير

7

رقم التصنيف، 370.157

المؤلف ومن هو في حكمه، د. صالح الزهراني، دلال حسين، ناصر حسين

عنوان الكتاب، منهج مهارات التفكير 7

رقم الإصدار، 2008/6/1898

التزقيم الدولي، 4- 52- 454 - 9957 - 978 ISBN:

الموضوع الرئيسي، التفكير / علم النفس / العمليات العقلية / الأطفال / رعاية
الطفولة / التعلم

بيانات النشر، دار دييونو للنشر والتوزيع عمان الأردن

* تم إعداد بيانات الفلكسك والصيغة الأوليك من قبل دائرة المكتبة الوطنية

الطبعة الأولى

2010 م

دييونو للطباعة والنشر والتوزيع

عضو اتحاد الناشرين الأردنيين

عضو اتحاد الناشرين العرب

حقوق الطبع والنشر محفوظة لمركز دييونو لتعليم التفكير. ولا يجوز إنتاج أي جزء من هذه المادة أو تخزينه على أي جهاز أو وسيلة تخزين أو نقله بأي شكل أو وسيلة سواء كانت إلكترونية أو اليد أو بالنسخ والتصوير أو بالتسجيل وأي طريقة أخرى إلا بموافقة خطية مسبقة من مركز دييونو لتعليم التفكير.

يطلب هذا الكتاب مباشرة من مركز دييونو لتعليم التفكير

عمان شارع الملكة رانيا مجمع الصيد التجاري مبنى 320

مقابل طرقات ابن سينا

هاتف: 962 6 5337003 . 962 6 5337029

فاكس: 962 6 5337007

ص. ب 831 عمشدة 11941 طملكة الأردنية هاشمية

E - mail: info@dehono.edu.jo

www.dehono.edu.jo





منهج مهارات التفكير

منهج مستقل لطلبة المدارس

تأليف

د. صالح بن يحيى الزهراني

دلال محمد حسين

ثامر غازي حسين

الناشر

ديبونو للطباعة والنشر والتوزيع



بِسْمِ اللَّهِ الرَّحْمَنِ الرَّحِيمِ

﴿ قَالُوا سُبْحَانَكَ لَا عِلْمَ لَنَا إِلَّا مَا عَلَّمْتَنَا إِنَّكَ أَنْتَ الْعَلِيمُ

الْحَكِيمُ ﴿٣٢﴾

صِدْقُ اللَّهِ الْعَظِيمِ

(البقرة: 32)



الجيوب الفارغة لم تمنع أحدا من النجوح،
بل العقول الفارغة هي التي تفعل ذلك

نوران بالمشيل





المحتويات

الصفحة	المهارة
11	التفكير في الحقائق المناسبة
17	تحديد العلاقات
33	ترتيب الأجسام
41	التخمين
57	التفكير بشأن ماذا سيحدث
73	الاستنتاج






مهارة
التفكير في الحقائق المناسبة





اختر افضل إجابتين وضع إشارة (✓) بجانب كل منهما:

1. امك تريد ان ترسل إلى ابن عمها في إنجلترا قميصاً جديداً، وبالتالي يجب ان تعرف:



○ مقاس القميص

○ طعامه المفضل

○ عنوانه

2. ذهب علي إلى طبيب الأسنان لأنه يعاني من ألم في أسنانه، ما يجب ان يعرفه طبيب الأسنان:



○ كم ساعة نام الليلة الماضية

○ أي الأسنان تؤلمه

○ شدة الألم

3. إذا كنت تريد ان تشاهد مقابلة والدك مع مذيع التلفزيون في برنامج "مع الناس"، فإنك تحتاج لمعرفة:

○ موعد الأخبار

○ ساعة بث برنامج "مع الناس"

○ قناة تلفزيون




4. خرجت رشا من السوبرماركت، واتجهت للبحث عن سيارتها، فيجب ان تعرف :

○ اي سيارة تشبه سيارتها

○ اي كراج وضعت فيه سيارتها

○ حمولة سيارتها




تحت قائمة النصائح لاستعارة الكتب من المكتبة، ليس كل النصائح صحيحة. هل بالإمكان ان تحدد الصحيحة منها ؟




- املا الطاولة بالكتب المفيدة
- زيارة المكتبة يوميا
- إرجاع الكتب إلى مكانها الصحيح
- اخبر كل اصدقائك انك ستذهب إلى المكتبة
- ادفع كلفة الكتاب الموجودة على البطاقة
- الكتاب الذي لا يعجبك ارمه في الحاوية
- حافظ على نظافة المكتبة
- ممنوع إدخال اي طعام او شراب
- تأكد من تاريخ إرجاع الكتاب
- دع اصدقاءك يأخذون كتبك المستعار للبيت ليوم واحد فقط
- لا تقرا بصوت عال
- تعيد الكتاب مكانه

- هل تفضل أن تقرأ كتاباً يحتوي الغزاً أم كتاباً ثقافياً؟
اذكر الأسباب ؟



مهارة
تعدد العلاقات





صل بخط بين الأشياء ذات العلاقة:




بطاطا



بقرة



قطن



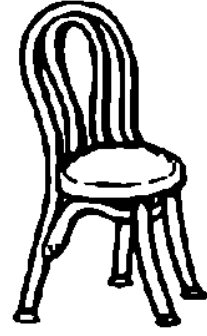
طوب



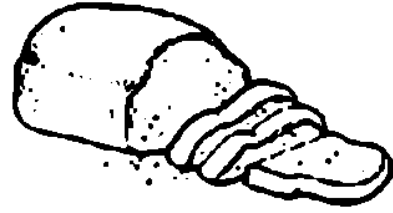
صل بخط بين الأشياء ذات العلاقة:



قمح



خروف




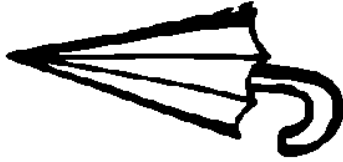

حليب



شجرة



صل بخط بين الأشياء ذات العلاقة:



ضع دائرة حول كل عنصر له علاقة بالعنصر الأول:

1	الضباك:	سجادة	ستائر	سرير
2	الشاطئ:	سيارات	شمع	رمال
3	المدينة:	مدرسة	فار	مصباح
4	ولد:	احمد	منى	هالة
5	نار:	قلم	علبة كبريت	سكين

● ظلل الدائرة التي تدل على الكلمة التي لها علاقة بالراس:

- ظفر
- شعر
- مرفق
- إصبع قدم

● ظلل الدائرة التي تدل على الكلمة التي لها علاقة بالمقص:

- كتابه
- مشط
- قطع
- استراحة



● ظلل الدائرة التي تدل على الكلمة التي لها علاقة بالعصفور:

○ المنقار

○ كفّ

○ فراء

○ شعر


● ظلل الدائرة التي تدل على الكلمة التي لها علاقة بالسمكة:

○ المخالب

○ صوف



○ ريش

○ خياشيم



اختر الكلمة المناسبة من الصندوق بحيث تكون ذات علاقة
مع الصورة الخاصة بها:

مكتبة جليد سيرك مخبز نار
غابة صحراء إسطنبول ملعب نار



اختر كلمة ذات علاقة من الصندوق:

باب منطاد عربة اطفال ساندويش تنورة
اب اخ جبن ربطة عنق صوت مرمى

.....	ام	.1
.....	اخت	.2
.....	مفتاح	.3
.....	فار	.4
.....	رضيع	.5
.....	بطاطا	.6
.....	هواء	.7
.....	كرة	.8
.....	فتاة	.9
.....	طائرة	.10
.....	رجل	.11



أكمل ما يلي:

● ظلل الدائرة التي تشمل الأشياء التي لها علاقة ببائع

الخضار:


○ تفاح

○ ريش

○ سمك

○ ميزان

○ بصل



● ظلل الدائرة التي تشمل الأشياء التي لها علاقة بالمخبز:


○ شامبو

○ عجينة


○ خس

○ خبز

○ كعك



● ظلل الدائرة التي تشمل الأشياء التي لها علاقة بالبريد:



○ رسالة

○ فرقة



○ الرمز البريدي

○ ظرف

○ يد



صل بخط بين كل حيوان وطعامه المفضل



ضع دائرة حول الكلمات التي تناسب الصور التالية:




1.

ليمون	لحم
سكين	كبيك

2.

قرااب	طير
دودة	نمل






3.

رباط	لعبة
شارع	قدم



ضع دائرة حول الصورة أو الشيء الذي يختلف عن
النطاق:

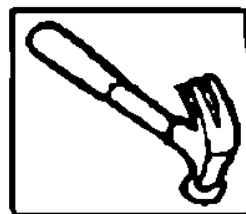
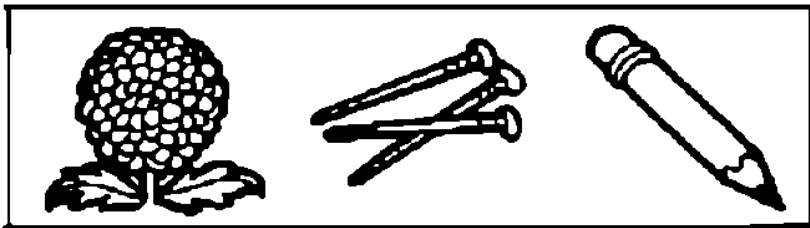










في كل سطر، ضع دائرة حول الكلمة التي لديها معنى مختلف:

سيارة	صوت	طائرة
شهور	رزمة	اسبوع
شوربة	خبز	بيض
حذاء	ملابس	رمل
لصوص	ملك	امير
كراسي	باب	طاولة
قراءة	كتابة	سباحة
غرباء	عمات	اعمام



ضع دائرة حول الصورة التي لها علاقة بالصورة الأولى:



مهارة ترتيب الأجسام





ارسم الأشكال المناسبة في نهاية كل سطر:

★ □ ★ □ ★ ★ □ □ ★ ★ □ □








□ ★ □ □ ★ □ □ □ □ ★ □ □ □

★ □ ★ ★ □ □ ★ ★ ★ □ □ □

□ □ ★ ★ □ ★ □ □ ★ ★ □ ★




ارسم الأشكال المناسبة في نهاية كل سطر:


			
			
			

ارسم الأشكال المناسبة في نهاية كل سطر:

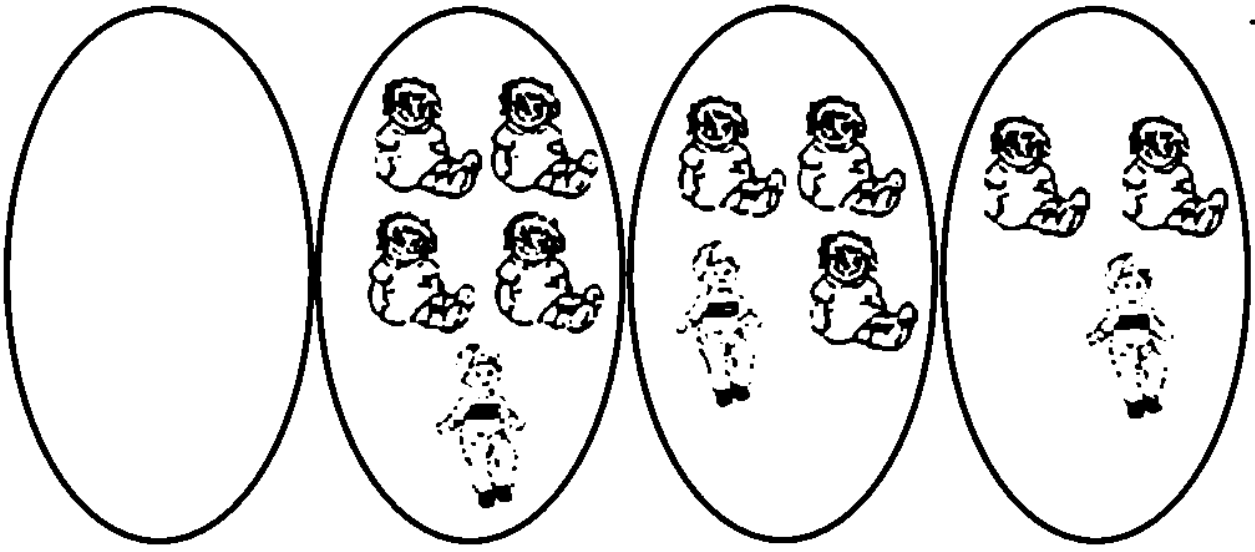
.1




.2



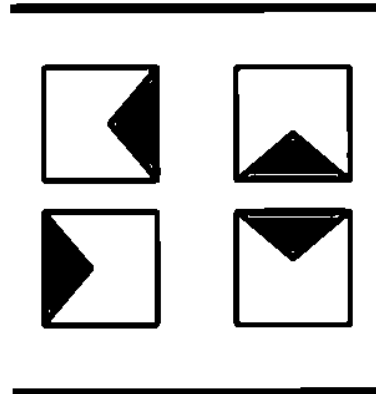

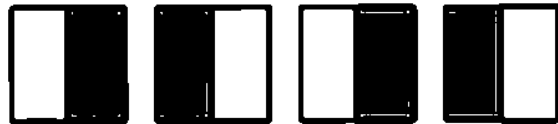
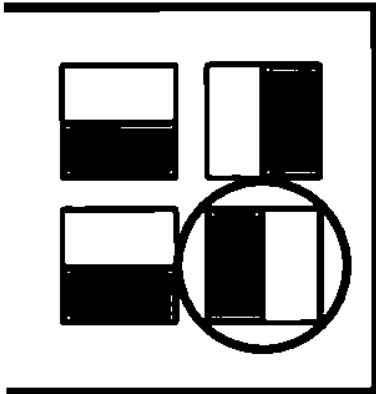
3




4




ضع دائرة حول الشكل الذي يأتي بعد




ارسم الشيء المفقود في كل سطر:




.1



.2



.3



.4


مهارة التخمين






اكمل ما يلي:

1. لون الحيوان الأسرع:




2. لون الشخص الذي ينهي سقاية الزرع اولاً:



3. لون البوظة التي يجب ان ناكلها اولاً:





4. لون الشيء الذي يعطي إضاءة أكثر:




5. لون صورة الكائن الحي الذي يحمل الأثقل:




6. اي هدية اغلى ثمنا:



7. اي منهم يحتاج لوقت اقل لشراء الأغراض:



8. اي منهم يستطيع ان يصل لأعلى تفاحة:



ما تخمينك لكل مما يلي:

1. تريد بيان اكل البوظة لكن لا يوجد حولها ملعقة،



برأيك ماذا ستفعل بعد ذلك ؟

- ستاكل البوظة باصبعها
- ستطلب ممن حولها ملعقة
- ستحضر مصاصة لتاكل البوظة

2. يريد سامح ان يحضر كعكة عيد ميلاد والدته، بدأ

بوضع ربع كوب من الزيت، ماذا سيفعل بعد ذلك؟




• سوف يضع السكر والبيض في الوعاء

• سوف يعقم الماء

• يضع الطبق في الثلاجة

3. إذا وضعنا قارب شرابي وصخرة في وعاء مليء بالماء

ماذا سيحصل؟



- القارب سيطفو والصخرة ستغرق
- كلاهما يطفو على السطح
- القارب سيفرق والصخرة ستطفو

4. إذا تركت ساندويشتك على الطاولة، وتمكن الكلب

الجائع من الوصول إليها. ماذا سيحصل؟



- سوف تسمم الساندويش الكلب
- سوف يأكل الكلب الساندويش كله
- سوف يتجاهل الكلب الساندويش




اكتب ما هو السخيف في الصورة التالية:



اكتب ما هو السخيف في الصورة التالية:



اكتب اربعة اشياء سخيفة في الصورة التالية:



.....

.....

.....

.....


.....

.....

.....




ضع إشارة ✓ أمام الجملة المناسبة :



- يحمل سالم الأثقال خلال 4 دقائق
- يحمل سالم الأثقال خلال 25 دقيقة



- يقرأ المعلم قصة صلاح الدين الأيوبي خلال 50 دقيقة
- يقرأ المعلم قصة صلاح الدين الأيوبي خلال 5 ساعات




- يمكن وضع 25 ملعقة كبيرة من الملح
- يمكن وضع 50 ملعقة كبيرة من الملح



- يستغرق وائل 30 ثانية في تناول الفوشار
- يستغرق وائل 60 ثانية في تناول الفوشار





• نحتاج إلى أربعة كراسي حتى تناسب هذه الطاولة

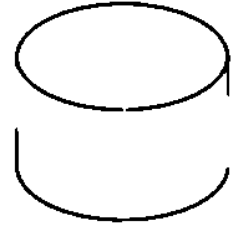
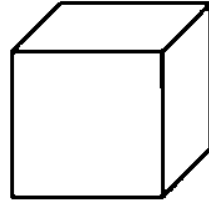
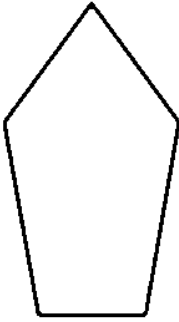
.....

• نحتاج إلى ثلاث كراسي حتى تناسب هذه الطاولة


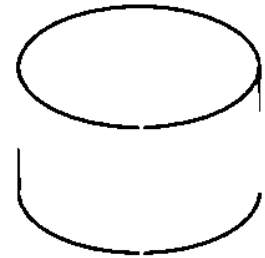
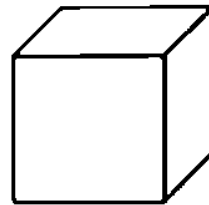
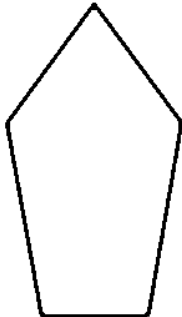

.....



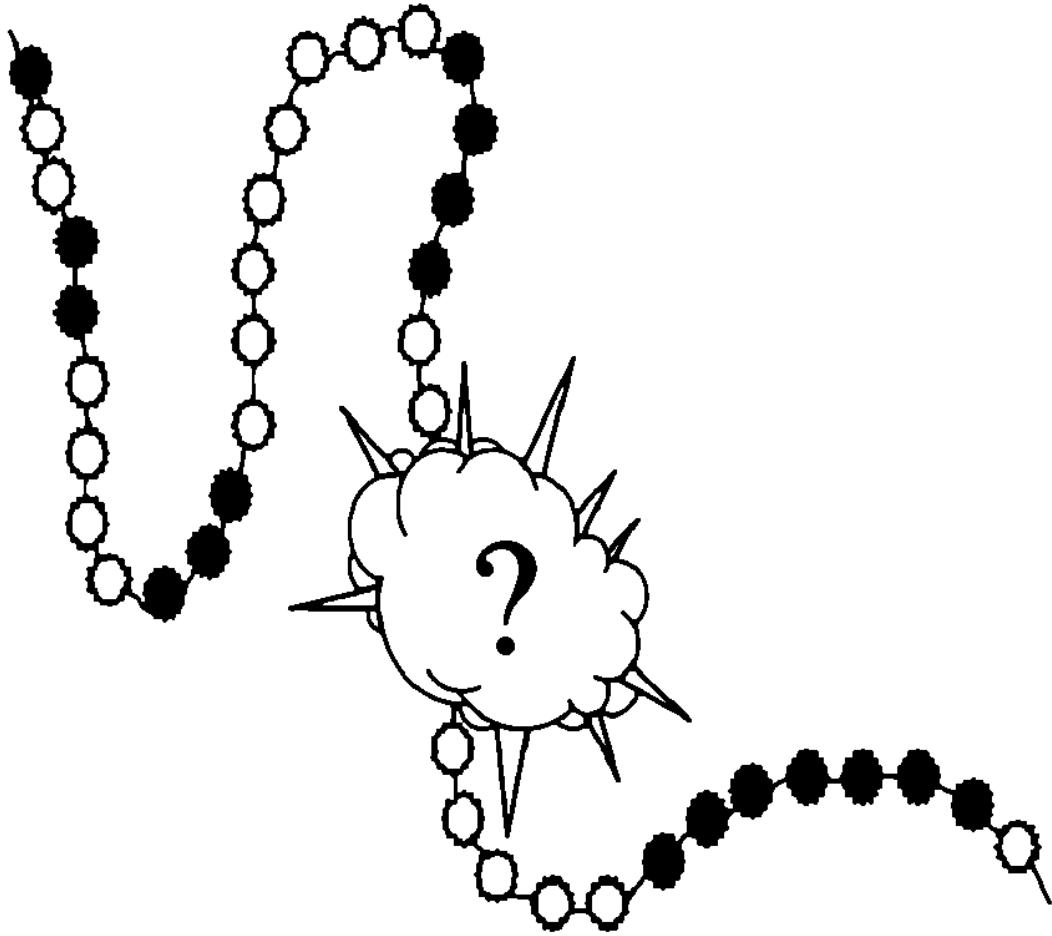
ظل الصندوق الذي يتسع لوضع الهدية التالية:



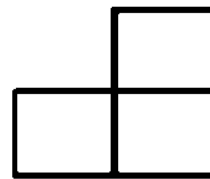
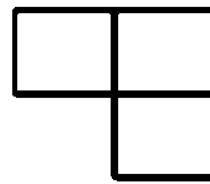
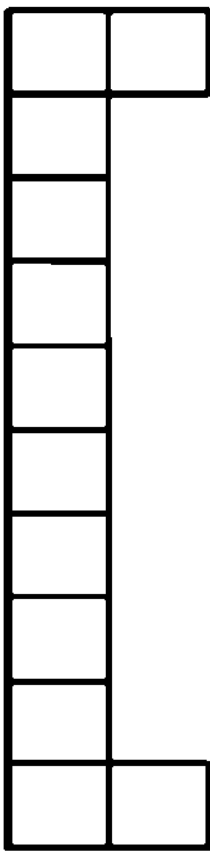
ظل الصندوق الذي يتسع لوضع الهدية التالية:



كم عدد الخرزات المخبأة تحت الفيمة؟



كم بلاطة يمكن وضعها في الفراغات التالية، بحيث يكون في كل جهة 10 بلاطات .



مهارة التفكير بشأن ماذا سيحدث





ظلل الدائرة التي تدل على الجواب الأنسب لكل مما يلي:

1. عندما ترن ساعة المنبه في الصباح:

- ادرس رياضيات
- اقوم من الفراش
- اقرا كتابي

2. عندما اريد مشاهدة العرض التلفزيوني المفضل:

- اغير ملابسي
- انظف اسناني
- افتح التلفاز

3. عندما انهي فطوري:

- انظف اسناني
- استحم
- اذهب إلى بيت صديقي



4. دخلنا السيارة و:

- استمعنا إلى الراديو
- اكلنا وجبة سمك
- تأخرنا على المدرسة

5. حالما وصلنا إلى الشاطئ:

- وضعنا منشفتنا على الرمل
- ركبنا على الأراجيح
- اشترينا شيء للأكل

6. احس ماجد بشيء يشد صنارته إلى الأسفل بقوة، لذا

عليه القيام بـ:

- الجلوس على صخرة
- سحب الصنارة بسرعة
- الذهاب للسباحة

7. حالما تدخل البيت، يجب أن:

- تدقق البريد
- تفتح النافذة
- تغلق الباب



إقرا بداية كل من الجمل التالية, ثم ضع دائرة على
الجواب الأنسب لتكملها:

1 إذا خرجت من البيت في يوم ماطر، لربما تصبح:

○ مرهقاً

○ نائماً

○ مبتلاً

○ حزيناً

2- إذا وقفت بالقرب من مروحية، قد يكون هذا:

○ عالياً

○ مزعجاً

○ مظلماً

○ مملاً

3 عندما ضغطت الفتاة الزر:

○ أغلق الكتاب

○ رن الجرس

○ تساقطت الأمطار

○ تحركت الأشجار



4 عندما حضر المهرج، شعر الأطفال بـ:

○ السعادة

○ الحزن

○ التوتر

○ الغضب

5 عندما يذهب الفيل إلى النهر، فإنه:

○ يرتاح

○ يأكل

○ يسقط

○ يشرب

6- عندما اكون مرهقاً، فإنني:

○ اقرأ كتاباً

○ اذهب إلى النوم

○ اتناول الفطور

○ انظف غرفتي



7 عندما يزورني صديقي، فإننا:

○ نلعب ألعاباً في الكمبيوتر.

○ نكمل ترتيب البيت.

○ ينظر كل منا للآخر.

○ نجلس بهدوء.



اقرا الجمل التالية، ثم اكتب ماذا تتوقع ان يحدث بعد ذلك؟

1. اراد مصطفى ان يشتري لبن لأمه من السوبرماركت وفي الطريق تذكر انه لم يجلب المحفظة، ماذا تتوقع ان يحدث بعد ذلك؟

.....
.....
.....

2. بينما كان يوسف يتأرجح في حديقة الشعب سمع صوت طقطقة في الأرجوحة، ماذا تتوقع ان يحدث بعد ذلك؟

.....
.....
.....



3. تنتظر سماح عطلة نهاية الاسبوع للخروج مع عائلتها في رحلة إلى الشاطئ، وبعد ان احضرت جميع اغراضها، سمعت امها تقول " انا عندي اخبار سيئة"، ماذا تتوقع ان يحدث بعد ذلك؟

4. بينما كانت عائشة في المصعد، انقطعت الكهرباء فجأة. ماذا تتوقع ان يحدث بعد ذلك؟



انظر إلى كل صورة، ثم اكتب ماذا تتوقع أن يحدث بعد ذلك؟ ضع إشارة عند الجواب:

1.



- سيبقى عالقا في الأعلى
- سيطلب المساعدة

2.



- يحرز فريق M هدفا
- تعاد المباراة في وقت آخر



3.



- يسرق بنك
- يلعب لعبة " استغماية "



ارسم ماذا يمكن أن يحدث في الخطوة التالية:




اكتب نهاية سعيدة لكل جملة:

- عندما توقف المطر، قام الأطفال
.....
- بعدما اكل كثيراً من الكيك، فإن الولد
.....
- عندما وصلت الحافلة إلى الموقف، فإن الفتاة
.....
- عندما وصلنا إلى المنتزه، فإن الأصدقاء الثلاثة
.....
- عندما فازت الفتاة بالمسابقة، فإنها
.....
- عندما أيقظت ساعة المنبه الرجل، فإنه
.....
- عندما جلست الفتاة على كرسي طبيب الأسنان، فإن
.....
- بعد انتهاء الحفل، قامت الفتاتان
.....
- عندما خرج خالد من قاعة الامتحان
.....



ماذا تفعل؟

○ إذا وجدت لافتة مرسوم عليها افعي.



.....

.....

.....

○ كنا نشاهد التلفاز، وفجأة بدأ المطر يتساقط من سقف

بيتنا.



.....

.....

.....



○ إذا وجدت اعمى يقطع الشارع.



.....

.....

.....

○ إذا شعرت بالخطر داخل قطار.



.....

.....

.....




○ نظرت من النافذة فوجدت المال بدلاً من التفاح على الشجرة.



.....
.....
.....

○ إذا كنت غواصاً ووجدت صندوقاً أسود تحت ماء البحر.



.....
.....
.....





مهارة الاستنتاج





انظر إلى الصور التالية، واقرا الجمل الموجودة بجانبها،
إذا كنت تعتقد ان الجملة صحيحة اكتب كلمة " صح "
وإذا كنت غير متأكد اكتب " غير متأكد".



○ هذه اوراق امتحانات طلاب الصف


الرابع ا

.....



○ الجو حار

.....



○ يبدو ان هناك سارق


.....






○ تخطط لطعام الغداء

.....



○ الولد خائف من الإبرة

.....




○ يحب الولد الأرز

.....



ضع إشارة "✓" بعد كل جملة تعتقد انها صحيحة:



○ يعيش السمك في منقار البطة


○ يعيش السمك في الماء



○ تعب ايهم من التزلج

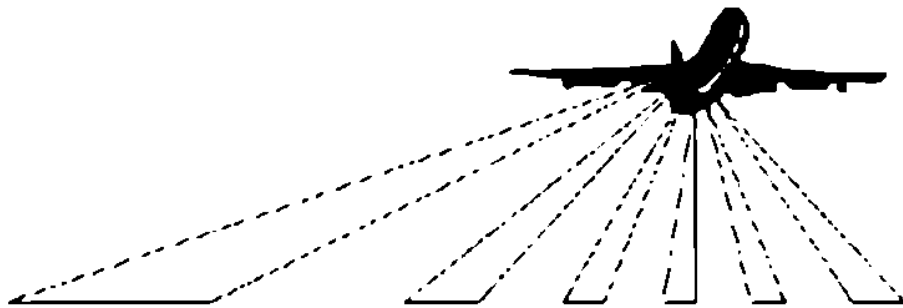
○ وقع ايهم على الأرض





○ نحتاج لطبيب بيطري

○ نحتاج لطبيب عيون



○ ستقلع الطائرة بعد دقيقتين

○ ستصل الطائرة بعد دقيقتين




اقرأ كل جملة، ثم ضع دائرة حول الصورة التي تكملها.


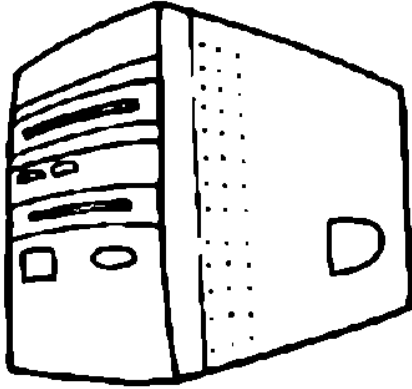
● القارب يبحر بسرعة وذلك لوجود :




● يريد سعيد رؤية هلال شهر رمضان، فهو بحاجة لـ:



- يريد المعلم إجراء تجربة لمادة العلوم في المختبر، فما يلزم لإجراء هذه التجربة:




- ساذهب إلى المكتبة، وساستعير بعضاً من:




- أكبر الأثار حجما:



● يشعر الأطفال بمتعة السباحة في:



● إذا سألك المعلم: ماذا سيحصل بعد نفاذ النفط في العالم؟ ستقوم بعملية:



أماذا نحتاج لكل مما يلي:



● مهندس كمبيوتر

● الدفاع المدني



● شخص يحب الطبخ

● ملح





● شخص ما معه سلم طويل


● شخص ما يحب التسلق




● سيارة

● ركاب






- النجدة
- صفارة إنذار



- كرة تنس
- ملابس رياضة



لكل مما يلي، ضع إشارة "√" عند الجملة التي تعتقد انها
صحيحة:



- تصرف هذا الرجل صحيح
- تصرف هذا الرجل خاطئ




- مستمتع في عمله
- كسول





- تضع الأم قطعة حلوى في فم الطفل
- تضع الأم ميزان حرارة في فم الطفل



- اوشك الأسد ان ينقض على الحيوان الآخر
- اوشك الأسد ان يقفز إلى النهر للسباحة



منتدى سور الأزبكية

WWW.BOOKS4ALL.NET

<https://www.facebook.com/books4all.net>

